

№ 17527

ля олимпиада школьников 2019 – 2020 учебный год. (школьный) этап.

История. 5 класс

ения работы - 60 минут

Максимальный балл – 100 баллов

е участники (школьного) тура всероссийской олимпиады школьников по истории!

ется выполнить 8 заданий. Приступив к работе, внимательно прочтите задание.

неверный ответ штрафные баллы не начисляются. Любыми дополнительными
скими устройствами пользоваться запрещается. ЖЕЛАЕМ УСПЕХА!

ите один правильный ответ и занесите его в таблицу (10 баллов, по 1 баллу за
и ответ).

з которого древние люди научились делать орудия труда:

- В) железо Г) алюминий

благодаря которому у людей появилось земледелие:

- А) скотоводство В) охота Г) рыболовство

удилась в глубокой древности в:

- А) Греции В) Индии Г) России

4. Какое наказание было самым страшным для первобытного человека?

- А) изгнание Б) лишение пищи В) удары плетью Г) штрафы

5. Древнейшие стоянки человека, найденные на территории современной России, расположены:

- А) в Подмосковье Б) в Краснодарском крае В) в Крыму Г) на Алтае

6. По мнению первобытных людей в каждом человеке обитал/ла

- А) дух Б) душа В) разум Г) интуиция

7. Странительство пирамид потребовало знания

- А) физики и астрономии Б) географии и истории В) арифметики и геометрии Г) медицины и химии

8. В древнеегипетских школах готовили:

- А) жрецов Б) чиновников В) воинов Г) ремесленников

9. Каменные сооружения, имеющие форму иглы, символы Солнца в Древнем Египте

- А) пирамиды Б) обелиски В) храмы Г) сфинксы

10. Прочитайте отрывок из работы историка, укажите о ком идет речь.

«В 1828 - 1829 гг. он во главе группы своих верных учеников вдоль и поперек исходил долину Нила; всюду его принимали с исключительным гостеприимством, как человека, который «прочел письмена древних камней». А) Саутуола Б) Шампольон В) Лики Г) Картер.

1	2	3	4	5	6	7	8	9	10

85.

Задание № 2. Верны ли следующие утверждения? Если вы согласны с утверждением, напишите «да», если не согласны – «нет». Внесите свои ответы в таблицу (2 балла за каждый правильный ответ, максимальный балл - 10).

- Основным видом хозяйственной деятельности человека в эпоху палеолита была охота.
- Коллектив кровных родственников назывался соседской общиной.
- Для ведения войны племя избирало военного предводителя – вождя.
- Пантеон египетских богов возглавлял бог Тот.
- Войско фараона состояло только из многочисленных отрядов пехоты.

85.

да +	нет +	да +	да нет +	да 5 -
------	-------	------	----------	--------

Задание № 3. Установите соответствие. К каждой позиции в первой колонке подберите соответствующую позицию из второй. Максимально – 12 баллов, по 3 балла за каждый правильный ответ.

Вспомогательная историческая наука		Что изучает	
1	Нумизматика	А	Наука о времени
2	Геральдика	Б	Наука о мерах длины, веса, объема
3	Метрология	В	Наука о монетах
4	Хронология	Г	Наука о гербах

1	2	3	4
А В	В Г	Г Б	А

125.

Задание № 4. Что является лишним в ряду? Свой ответ объясните (всего 10 баллов, 2 балла за указанное правильно лишнее слово и 3 балла за объяснение).

- Человеческое стадо, род, государство, племя государство Потому что это оно лишнее
- Рубило, палка-копалка, топор, идол - идол Потому что все остальные орудия труда

95.

55.

Задание № 5. Решите задачи (всего – 17 баллов).

1. Воин родился в 17 году до н. э., а погиб в битве в 29 году н.э. Сколько лет он прожил? Решите задачу используя линию времени (7 баллов). он прожил 46 лет 25

2. В один музей принесли древний меч. На мече надпись: «Этим оружием Спартак поражал врагов. Надпись сделана друзьями Спартака через два дня после его гибели в 71 году до Рождества Христова». Осмотревшие меч ученые знали, что вождь восставших рабов по имени Спартак действительно погиб в 71 году до н.э. Несмотря на это, они заявили, что надпись фальшивая: она сделана не друзьями Спартака, а много-много лет позже. Объясните, почему ученые пришли к такому выводу (до 10 баллов). 0

Задание № 6. Прочитайте стихотворение И.А. Буннина и ответьте на вопросы к тексту (8 баллов).

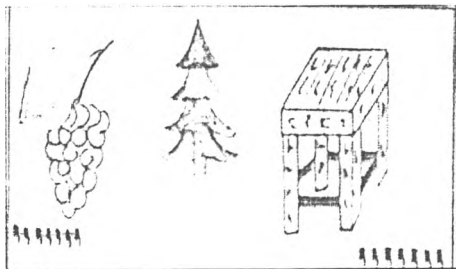
Луна и ниги. По берегу к пещерам
Идёт народ, краснеют фонари.
На берегу, в песке сухом и сером
Ряды гробниц – и всё цари, цари.

Иной как был – под крышкой золочёной,
Иной открыт – в тугую пелену,
В пахучий кокон тесно заключённый,
Пять тысяч лет не увидевший луну

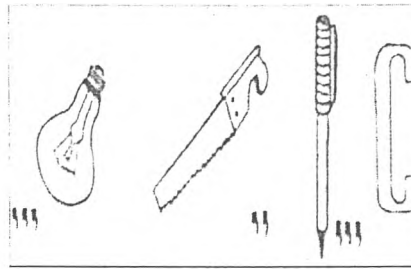
1. Название какой реки надо поместить в первую строку? ниги 41

2. Как называется место, описанное в стихотворении? Египет

Задание № 7. Решите ребусы и объясните смысл разгаданных слов. За каждый разгаданный ребус - 5 баллов, за объяснение слова -5 баллов, максимальный балл – 20.



1



2

- Р
- написане вады неба река, с = написане 55

Задание № 8. Символом Калининграда стал Кафедральный Собор на острове. Проверь, насколько ты внимателен (льна). Максимальный балл – 13.

- Что изображает флюгер Собора? -
- Сколько башен у Собора? две
- Из какого материала построен Собор? красный кирпич 2
- Какой музыкальный инструмент находится в Соборе? механико
- К какому архитектурному стилю можно отнести Собор? готик
- Какой известный учёный-философ похоронен у стен Собора? И. Кант 2

4

Таблица результатов:

Задание №	1	2	3	4	5	6	7	8
Мак балл	10	10	12	10	17	8	20	13
Баллы ученика	8	8	12	0	2	4	5	4

Всего баллов: 525

Председатель жюри: Цвях Н.Э.
Члены жюри Графкина М.В.
Иванова М.Е.
Степаненко О.Э.

ская олимпиада школьников 2019 – 2020 учебный год. (школьный) этап.

История. 5 класс

длнения работы - 60 минут

Максимальный балл – 100 баллов

мые участники (школьного) тура всероссийской олимпиады школьников по истории! гается выполнить 8 заданий. Приступив к работе, внимательно прочтите задание. за неверный ответ штрафные баллы не начисляются. Любыми дополнительными ческими устройствами пользоваться запрещается. ЖЕЛАЕМ УСПЕХА!

ерите один правильный ответ и занесите его в таблицу (10 баллов, по 1 баллу за ый ответ).

из которого древние люди научились делать орудия труда:

а В) железо Г) алюминий

и, благодаря которому у людей появилось земледелие:

Б) скотоводство В) охота г) рыболовство

зродилась в глубокой древности в:

Г) Греции В) Индии Г) России

4. Какое наказание было самым страшным для первобытного человека?

А) изгнание Б) лишение пищи В) удары плетью Г) штрафы

5. Древнейшие стоянки человека, найденные на территории современной России, расположены:

А) в Подмосковье Б) в Краснодарском крае В) в Крыму Г) на Алтае

6. По мнению первобытных людей в каждом человеке обитал/ла

А) дух Б) душа В) разум Г) интуиция

7. Странительство пирамид потребовало знания

А) физики и астрономии Б) географии и истории В) арифметики и геометрии Г) медицины и химии

8. В древнеегипетских школах готовили:

А) жрецов Б) чиновников В) воинов Г) ремесленников

9. Каменные сооружения, имеющие форму иглы, символы Солнца в Древнем Египте

А) пирамиды Б) обелиски В) храмы Г) сфинксы

10. Прочитайте отрывок из работы историка, укажите о ком идет речь.

«В 1828 - 1829 гг. он во главе группы своих верных учеников вдоль и поперек исходил долину Нила; всюду его принимали с исключительным гостеприимством. как человека, который «прочел письмена древних камней». А) Саутуола Б) Шампольон В) Лики Г) Картер.

1	2	3	4	5	6	7	8	9	10
А	А	Б	А	Г	Б	В	В	А	Б

Задание № 2. Верны ли следующие утверждения? Если вы согласны с утверждением, напишите «да», если не согласны – «нет». Внесите свои ответы в таблицу (2 балла за каждый правильный ответ, максимальный балл - 10).

- Основным видом хозяйственной деятельности человека в эпоху палеолита была охота.
- Коллектив кровных родственников назывался соседской общиной.
- Для ведения войны племя избирало военного предводителя – вождя.
- Пантеон египетских богов возглавлял бог Тот.
- Войско фараона состояло только из многочисленных отрядов пехоты.

1	2	3	4	5
да	нет	да	нет	нет

Задание № 3. Установите соответствие. К каждой позиции в первой колонке подберите соответствующую позицию из второй. Максимально – 12 баллов, по 3 балла за каждый правильный ответ.

Вспомогательная историческая наука		Что изучает	
1	Нумизматика	А	Наука о времени
2	Геральдика	Б	Наука о мерах длины, веса, объема
3	Метрология	В	Наука о монетах
4	Хронология	Г	Наука о гербах


1	2	3	4
Б	Г	В	А

Задание № 4. Что является лишним в ряду? Свой ответ объясните (всего 10 баллов, 2 балла за указанное правильно лишнее слово и 3 балла за объяснение).

- Человеческое стадо, род, государство, племя. государство - потому, что это уже современное понятие
- Рубило, палка-копалка, топор, идол. идол - это статуя, в отличие от других

Задание № 5. Решите задачи (всего – 17 баллов).

1. Воин родился в 17 году до н. э., а погиб в битве в 29 году н.э. Сколько лет он прожил? Решите задачу используя линию времени (7 баллов).



2. В один музей принесли древний меч. На мече надпись: «Этим оружием Спартак поражал врагов. Надпись сделана друзьями Спартака через два дня после его гибели в 71 году до Рождества Христова». Осмотревшие меч ученые знали, что вождь восставших рабов по имени Спартак действительно погиб в 71 году до н.э. Несмотря на это, они заявили, что надпись фальшивая: она сделана не друзьями Спартака, а много-много лет позже. Объясните, почему ученые пришли к такому выводу (до 10 баллов).

Потому что они сделали надпись до рождения Спартака

Задание № 6. Прочитайте стихотворение И.А. Бунина и ответьте на вопросы к тексту (8 баллов).

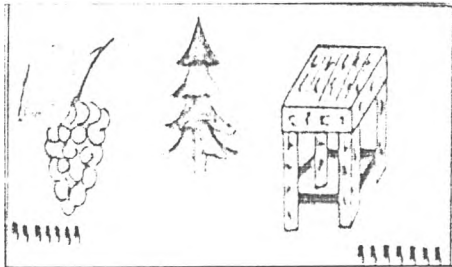
Луна и Нил. По берегу к пещерам
Идёт народ, краснеют фонари.
На берегу, в песке сухом и сером
Ряды гробниц – и всё цари, цари.

Иной как был – под крышкой золочёной,
Иной открыт – в тугую пелену,
В пахучий кокон тесно заключённый,
Пять тысяч лет не видевший луну

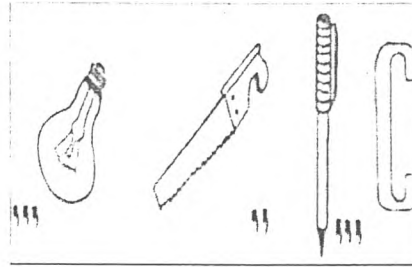
1. Название какой реки надо поместить в первую строку? Нил

2. Как называется место, описанное в стихотворении? Египет, пирамида фараонов

Задание № 7. Решите ребусы и объясните смысл разгаданных слов. За каждый разгаданный ребус - 5 баллов, за объяснение слова - 5 баллов, максимальный балл – 20.



1



2

1. Сборщик яблок - сбор яблок в садах

2. Традиция подарков на Рождество

Задание № 8. Символом Калининграда стал Кафедральный Собор на острове. Проверь, насколько ты внимателен (льна). Максимальный балл – 13.

1. Что изображает флюгер Собора? —

2. Сколько башен у Собора? 3

3. Из какого материала построен Собор? Дерево

4. Какой музыкальный инструмент находится в Соборе? Орган

5. К какому архитектурному стилю можно отнести Собор? —

6. Какой известный учёный-философ похоронен у стен Собора? Кант

Таблица результатов:

Задание №	1	2	3	4	5	6	7	8
Мак балл	10	10	12	10	17	8	20	13
Баллы ученика	7	8	6	8	10	8	10	4

Всего баллов: 620

Председатель жюри: Цвях Н.Э.
Члены жюри Графкина М.В.
Иванова М.Е.
Степаненко О.Э.

Олимпиада школьников 2019 – 2020 учебный год. (школьный) этап.

История. 5 класс

Время работы - 60 минут

Максимальный балл – 100 баллов

Участники (школьного) тура всероссийской олимпиады школьников по истории! Для выполнения 8 заданий. Приступив к работе, внимательно прочтите задание. Каждый верный ответ штрафные баллы не начисляются. Любыми дополнительными устройствами пользоваться запрещается. **ЖЕЛАЕМ УСПЕХА!**

За каждый правильный ответ и занесите его в таблицу (10 баллов, по 1 баллу за ответ).

1. В каком из древних государств люди научились делать орудия труда:

- А) в Египте Б) в Греции В) в Индии Г) в России

2. В каком из древних государств впервые появилось земледелие:

- А) в Месопотамии В) в Китае Г) в Японии

3. В каком из древних государств впервые появились письменность и искусство:

- А) в Египте Б) в Индии В) в Китае Г) в Японии

4. Какое наказание было самым страшным для первобытного человека?

- А) изгнание Б) лишение пищи В) удары плетью Г) штрафы

5. Древнейшие стоянки человека, найденные на территории современной России, расположены:

- А) в Подмосковье Б) в Краснодарском крае В) в Крыму Г) на Алтае

6. По мнению первобытных людей в каждом человеке обитало:

- А) дух Б) душа В) разум Г) интуиция

7. Строительство пирамид потребовало знания:

- А) физики и астрономии Б) географии и истории В) арифметики и геометрии Г) медицины и химии

8. В древнеегипетских школах готовили:

- А) жрецов Б) чиновников В) воинов Г) ремесленников

9. Каменные сооружения, имеющие форму иглы, символы Солнца в Древнем Египте:

- А) пирамиды Б) обелиски В) храмы Г) сфинксы

10. Прочитайте отрывок из работы историка, укажите о ком идет речь.

«В 1828 - 1829 гг. он во главе группы своих верных учеников вдоль и поперек исходил долину Нила; всюду его принимали с исключительным гостеприимством. как человека, который «прочел письмена древних камней». А) Саутуола Б) Шампольон В) Дики Г) Картер.

1	2	3	4	5	6	7	8	9	10
А	Б	Б	А	Г	Б	В	А	А	А

Задание № 2. Верны ли следующие утверждения? Если вы согласны с утверждением, напишите «да», если не согласны – «нет». Внесите свои ответы в таблицу (2 балла за каждый правильный ответ, максимальный балл - 10).

- Основным видом хозяйственной деятельности человека в эпоху палеолита была охота.
- Коллектив кровных родственников назывался соседской общиной.
- Для ведения войны племя избирало военного предводителя – вождя.
- Пантеон египетских богов возглавлял бог Тот.
- Войско фараона состояло только из многочисленных отрядов пехоты.

1	2	3	4	5
да +	нет +	да +	да -	нет +

Задание № 3. Установите соответствие. К каждой позиции в первой колонке подберите соответствующую позицию из второй. Максимально – 12 баллов, по 3 балла за каждый правильный ответ.

Вспомогательная историческая наука		Что изучает	
1	Нумизматика	А	Наука о времени
2	Геральдика	Б	Наука о мерах длины, веса, объема
3	Метрология	В	Наука о монетах
4	Хронология	Г	Наука о гербах

1	2	3	4
В	Г	Б	А

Задание № 4. Что является лишним в ряду? Свой ответ объясните (всего 10 баллов, 2 балла за указанное правильно лишнее слово и 3 балла за объяснение).

- Человеческое стадо, род, государство, племя - род, все остальное общины людей
- Рубило, палка-копалка, топор, идол - идол, все остальное орудия труда

Задание № 5. Решите задачи (всего – 17 баллов).

1. Воин родился в 17 году до н. э., а погиб в битве в 29 году н.э. Сколько лет он прожил? Решите задачу используя линию времени (7 баллов). $17 + 29 = 46$ лет прожил воин 25-

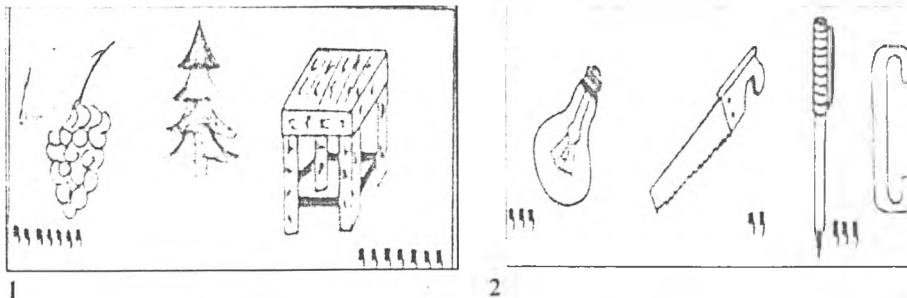
2. В один музей принесли древний меч. На мече надпись: «Этим оружием Спартак поражал врагов. Надпись сделана друзьями Спартака через два дня после его гибели в 71 году до Рождества Христова». Осмотревшие меч ученые знали, что вождь восставших рабов по имени Спартак действительно погиб в 71 году до н.э. Несмотря на это, они заявили, что надпись фальшивая: она сделана не друзьями Спартака, а много-много лет позже. Объясните, почему ученые пришли к такому выводу (до 10 баллов). _____

Задание № 6. Прочитайте стихотворение И.А. Буннина и ответьте на вопросы к тексту (8 баллов).

Луна и Рим. По берегу к пещерам
Идёт народ, краснеют фонари.
На берегу, в песке сухом и сером
Ряды гробниц – и всё цари, цари.
Иной как был – под крышкой золочёной,
Иной открыт – в тугую пелену,
В пахучий кокон тесно заключённый,
Пять тысяч лет не видевший луну

1. Название какой реки надо поместить в первую строку? Рим
2. Как называется место, описанное в стихотворении? Пирамиды Хеопса

Задание № 7. Решите ребусы и объясните смысл разгаданных слов. За каждый разгаданный ребус - 5 баллов, за объяснение слова -5 баллов, максимальный балл – 20.



1. Дельта - река
2. Папирус - тростник который использовали для письма

Задание № 8. Символом Калининграда стал Кафедральный Собор на острове. Проверь, насколько ты внимателен (льна). Максимальный балл – 13.

1. Что изображает флюгер Собора? Корабли
2. Сколько башен у Собора? 2 башни
3. Из какого материала построен Собор? Кирпич
4. Какой музыкальный инструмент находится в Соборе? Орган
5. К какому архитектурному стилю можно отнести Собор? Гот.
6. Какой известный учёный-философ похоронен у стен Собора? Иммануил Кант

Таблица результатов:

Задание №	1	2	3	4	5	6	7	8
Макс балл	10	10	12	10	17	8	20	13
Баллы ученика	5	8	12	5	9	07	13	6

Всего баллов: 65

Председатель жюри: Цвях Н.Э.
Члены жюри: Графкина М.В.
Иванова М.Е.
Степаненко О.Э.