

Всероссийская олимпиада школьников 2019 – 2020 учебный год(школьный) этап.
История. 6 класс

Общее время выполнения работы - 60 минут Максимальный балл – 100 баллов

Уважаемые участники I (школьного) тура всероссийской олимпиады школьников по истории!

Вам предлагается выполнить 9 заданий. Приступив к работе, внимательно прочтите задание. Читая, что за неверный ответ штрафные баллы не начисляются. Любыми дополнительными материалами, техническими устройствами пользоваться запрещается. **ЖЕЛАЕМ УСПЕХА!**

Задание № 1. Выберите один правильный ответ и занесите его в таблицу (10 баллов, по 1 баллу за каждый правильный ответ).

- 1. Какой цвет являлся символом жизни в Египте: А) красный Б) жёлтый В) синий Г) чёрный
- 2. Спартанцы во главе с царём Леонидом защищали: А) остров Саламин Б) Фермопильский проход В) Милет Г) Марафонскую бухту
- 3. Демократия в Греции достигла наивысшего расцвета при: А) Солоне Б) Фемистокле В) Перикле Г) Мильтиаде.
- 4. Гонения на христиан прекратились при императоре: А) Диоклетиане Б) Константине В) Траяне Г) Нероне
- 5. Определите дату окончания истории Древнего мира и начала истории Средних веков А) 410 г. Б) 395 г. В) 476 г. Г) 500 г.
- 6. Их называют арабскими, но на самом деле они были придуманы в Индии: А) шахматы Б) цифры В) иероглифы Г) ноты.
- 7. Старинные документы хранятся в: А) архивах Б) музеях В) конторах Г) сейфах
- 8. Установление империи в Риме связано с именем: А) Гая Юлия Цезаря Б) Тиберия Гракха В) Октавиана Августа Г) Марка Антония.
- 9. Старинные документы хранятся в: А) архивах Б) музеях В) конторах Г) сейфах
- 10. Письменные источники по истории средневековья в Европе А) Календари Б) Летописи В) Евангелия Г) Хроники

1	2	3	4	5	6	7	8	9	10
А	Г	Б	Б	А	Б	Б	В	Б	Г

5

Задание № 2. Верны ли следующие утверждения? Если вы согласны с утверждением, напишите «да», если не согласны – «нет». Внесите свои ответы в таблицу (2 балла за каждый правильный ответ, максимальный балл - 10).

- 1. Берсерками у скандинавов называли тех людей, которые были способны крушить врага с огромной силой
- 2. Империя Карла Великого распалась в 843 году
- 3. Люди в Средние века знали, что живут в период Средневековья
- 4. Среди «семи свободных искусств», изучаемых в Средние века, первым стояло письмо
- 5. Культура Средневековья включала в себя и традиции варварских народов, и наследие античных времен

1	2	3	4	5
нет	да	нет	нет	нет

Задание № 3. Напишите понятия, к которым относятся данные определения (15 баллов, по 3 балла за каждый правильный ответ).

- 1. Земельное владение, которое давалось за военную службу и передавалось по наследству - гробница
- 2. Единоличны глава государства, передающий власть по наследству - царь
- 3. Небольшие рисунки, которыми украшали рукописные книги - иллюстрации
- 4. Тонко обработанная кожа овцы или телянка - нет
- 5. Запись событий по годам в Западной Европе - летопись

Задание № 4. Установите соответствие. К каждой позиции в первой колонке подберите соответствующую позицию из второй. Максимально – 12 баллов, по 3 балла за каждый правильный ответ.

Вспомогательная историческая наука		Что изучает	
1	Нумизматика	А	Наука о времени
2	Геральдика	Б	Наука о мерах длины, веса, объема
3	Метрология	В	Наука о монетах
4	Хронология	Г	Наука о гербах

1	2	3	4
В	Г	Б	А

Задание № 5. (7 баллов только за полный правильный ответ). Этих средневековых разбойников называли по-разному: варяги, норманны, викинги. Определите, кто из перечисленных народов как их называл. Свой ответ занесите в таблицу А) жители Европы Б) жители Скандинавии В) славяне.

варяги	норманны	викинги
В	А	Б

А как называли этих средневековых разбойников англичане?

норманны

6

Задание № 6. (8 баллов только за полный правильный ответ). В средневековом документе сказано, что Матвей Монморанси за феодал, полученный от Парижского епископа, должен отправляться в поход по требованию этого епископа с двумя рыцарями. Определите, в каких отношениях находились между собой названные люди.

Важного владыка и его отношения к нему к земле употреблено слово "феодалит", который не только употребил друзей

Задание № 7. Всего – 10 баллов.

1. Назовите сооружение времён раннего Средневековья, о котором говорили: «Кажется, будто это «странное произведение, которое вместе с тем вызывает трепет. лежит не на камне, а спущено на золотой цепи с высоты небес»

Пещера

Укажите имя человека, который в день освящения данного сооружения воскликнул, «Слава Всевышнему, который избрал меня для совершения этого великого дела! Я превзошел тебя, Соломон!»

2. О каком народе византийский историк VI в. писал: «Их никоим образом нельзя склонить к рабству или подчинению в собственной стране. Они многочисленны, выносливы, легко переносят жар, холод, дождь, недостаток в пище. К прибывающим к ним иноземцам относятся они ласково и охраняют их в случае надобности... Необходимые для них вещи они зарывают в тайниках, ничем лишним открыто не владеют...»?

Славяне

3

Задание № 8. Работа с картой. (5 баллов за каждый правильный ответ. Всего 15 баллов)

1. Какое событие отражено на карте?

возникновение Римской империи

2. Когда произошло это событие

до 32 до н.э.

3. Какие государства в будущем образовались на каждой из земель?

Италия, Римская империя.

10



Задание № 9. Как называется монумент? Где он расположен? Кому он посвящен? (13 баллов)

1. Первой олимпийке в честь Зевса.

2. в Афинах

3. Спортсмену возмужавшему о победе.

10




Таблица результатов:

Задание №	1	2	3	4	5	6	7	8	9
Мак балл	10	10	15	12	7	8	10	15	13
Баллы ученика	5	6	2	12	7	5	3	10	10

Всего баллов: 59

Председатель жюри: Цвях Н.Э.

Члены жюри: Графкина М.В.

Иванова М.Е.

Степаненко О.Э.

Всероссийская олимпиада школьников 2019 – 2020 учебный год (школьный) этап.

История. 6 класс

Время выполнения работы - 60 минут

Максимальный балл – 100 баллов

Уважаемые участники I (школьного) тура всероссийской олимпиады школьников по истории!

Вам предлагается выполнить 9 заданий. Приступив к работе, внимательно прочтите задание. Помните, что за неверный ответ штрафные баллы не начисляются. Любыми дополнительными материалами, техническими устройствами пользоваться запрещается. **ЖЕЛАЕМ УСПЕХА!**

Задание № 1. Выберите один правильный ответ и занесите его в таблицу (10 баллов, по 1 баллу за каждый правильный ответ).

1. Какой цвет являлся символом жизни в Египте: А) красный Б) жёлтый В) синий Г) чёрный
2. Артанцы во главе с царём Леонидом защищали: А) проливы Саламин Б) Фермопильский проход В) Милет Г) Марафонскую бухту
3. Демократия в Греции достигла наивысшего расцвета при: А) Перикле Б) Пелопиде В) Фемистокле Г) Мильтиаде.

4. Преследования на христиан прекратились при императоре:

- А) Диоклетиане Б) Константине В) Траяне Г) Нероне

5. Определите дату окончания истории Древнего мира и начала истории Средних веков

- А) 410 г. Б) 395 г. В) 476 г. Г) 500 г.

6. Их называют арабскими, но на самом деле они были придуманы в Индии:

- А) шахматы Б) цифры В) иероглифы Г) ноты.

7. Старинные документы хранятся в: А) архивах Б) музеях В) конторах Г) сейфах

8. Установление империи в Риме связано с именем:

- А) Гая Юлия Цезаря Б) Тиберия Гракха В) Октавиана Августа Г) Марка Антония.

9. Старинные документы хранятся в: А) архивах Б) музеях В) конторах Г) сейфах

10. Письменные источники по истории средневековья в Европе

- А) Календари Б) Летописи В) Евангелия Г) Хроники

1	2	3	4	5	6	7	8	9	10
Б	Г	В	Б	В	Б	А	В	А	Б

Задание № 2. Верны ли следующие утверждения? Если вы согласны с утверждением, напишите «да», если не согласны – «нет». Внесите свои ответы в таблицу (2 балла за каждый правильный ответ, максимальный балл - 10).

- Берсерками у скандинавов называли тех людей, которые были способны крушить врага с огромной силой
- Империя Карла Великого распалась в 843 году
- Люди в Средние века знали, что живут в период Средневековья
- Среди «семи свободных искусств», изучаемых в Средние века, первым стояло письмо
- Культура Средневековья включала в себя и традиции варварских народов, и наследие античных времен

1	2	3	4	5
нет	да	нет	да нет	да

Задание № 3. Напишите понятия, к которым относятся данные определения (15 баллов, по 3 балла за каждый правильный ответ).

- Земельное владение, которое давалось за военную службу и передавалось по наследству - феод
- Единоличная глава государства, передающий власть по наследству - князь, царь, император
- Небольшие рисунки, которыми украшали рукописные книги - миниатюры
- Тонко обработанная кожа овцы или теленка - кожа
- Запись событий по годам в Западной Европе - летопись

Задание № 4. Установите соответствие. К каждой позиции в первой колонке подберите соответствующую позицию из второй. Максимально – 12 баллов, по 3 балла за каждый правильный ответ.

Вспомогательная историческая наука		Что изучает	
1	Нумизматика	А	Наука о времени
2	Геральдика	Б	Наука о мерах длины, веса, объема
3	Метрология	В	Наука о монетах
4	Хронология	Г	Наука о гербах

1	2	3	4
В	Г	Б	А

Задание № 5. (7 баллов только за полный правильный ответ). Этих средневековых разбойников называли по-разному: варяги, норманны, викинги. Определите, кто из перечисленных народов как их называл. Свой ответ занесите в таблицу А) жители Европы Б) жители Скандинавии В) славяне.

варяги	норманны	викинги
В	А	Б

А как называли этих средневековых разбойников англичане?

6

Задание № 6. (8 баллов только за полный правильный ответ). В средневековом документе сказано, что Матвей Монморанси за феодал, полученный от Парижского епископа, должен отправляться в поход по требованию этого епископа с двумя рыцарями. Определите, в каких отношениях находились между собой названные люди.

Задание № 7. Всего – 10 баллов.

1. Назовите сооружение времён раннего Средневековья, о котором говорили: «Кажется, будто это «странное произведение, которое вместе с тем вызывает трепет, лежит не на камне, а спущено на золотой цепи с высоты небес» Шпиль

Укажите имя человека, который в день освящения данного сооружения воскликнул, «Слава Всевышнему, который избрал меня для совершения этого великого дела! Я превзошел тебя, Соломон!»

2. О каком народе византийский историк VI в. писал: «Их никоим образом нельзя склонить к рабству или подчинению в собственной стране. Они многочисленны, выносливы, легко переносят жар, холод, дождь, недостаток в пище. К прибывающим к ним иноземцам относятся они ласково и охраняют их в случае надобности... Необходимые для них вещи они зарывают в тайниках, ничем лишним открыто не владеют...»?

Герман

6

0

Задание № 8. Работа с картой. (5 баллов за каждый правильный ответ. Всего 15 баллов)

1. Какое событие отражено на карте?

Восточнославянские племена
восточноевропейских

2. Когда произошло это событие

II век

3. Какие государства в будущем образовались на каждой из земель?

Польша, Финляндия

12



Задание № 9. Как называется монумент? Где он расположен? Кому он посвящен? (13 баллов)

1. Первый полет в космос

2. в г. Байконур

3. Юрию Гагарину




Таблица результатов:

Задание №	1	2	3	4	5	6	7	8	9
Макс балл	10	10	15	12	7	8	10	15	13
Баллы ученика	7	8	3	12	6	0	6	12	1

Всего баллов: 55 Председатель жюри: Цвях Н.Э.

Члены жюри: Графкина М.В.

Иванова М.Е.

Степаненко О.Э.

Всероссийская олимпиада школьников 2019 – 2020 учебный год(школьный) этап.

История. 6 класс

шее время выполнения работы - 60 минут

Максимальный балл – 100 баллов

Уважаемые участники I (школьного) тура всероссийской олимпиады школьников по истории !

Вам предлагается выполнить 9 заданий. Приступив к работе, внимательно прочтите задание. Имейте в виду, что за неверный ответ штрафные баллы не начисляются. Любыми дополнительными материалами, техническими устройствами пользоваться запрещается. ЖЕЛАЕМ УСПЕХА!

Задание № 1. Выберите один правильный ответ и занесите его в таблицу (10 баллов, по 1 баллу за каждый правильный ответ).

- 1. Какой цвет являлся символом жизни в Египте: А) красный Б) жёлтый **В) синий** Г) чёрный
- 2. Парфяне во главе с царём Леонидом защищали: А) остров Саламин Б) Фермопильский проход В) Милет **Г) Марафонскую бухту**
- 3. Демократия в Греции достигла наивысшего расцвета при: А) Солоне Б) Фемистокле **В) Перикле** Г) Мильтиаде.
- 4. Гонимые на христиан прекратились при императоре: А) Диоклетиане Б) Константине **В) Траяне** Г) Нероне
- 5. Определите дату окончания истории Древнего мира и начала истории Средних веков А) 410 г. Б) 395 г. **В) 476 г.** Г) 500 г.
- 6. Их называют арабскими, но на самом деле они были придуманы в Индии: А) шахматы **Б) цифры** В) иероглифы Г) ноты.
- 7. Старинные документы хранятся в: **А) архивах** Б) музеях В) конторах Г) сейфах
- 8. Установление империи в Риме связано с именем: А) Гая Юлия Цезаря Б) Тиберия Гракха **В) Октавиана Августа** Г) Марка Антония.
- 9. Старинные документы хранятся в: А) архивах **Б) музеях** В) конторах Г) сейфах
- 10. Письменные источники по истории средневековья в Европе А) Календари **Б) Летописи** В) Евангелия Г) Хроники

1	2	3	4	5	6	7	8	9	10
В	В	В	В	В	Б	А	В	Б	Б

6

Задание № 2. Верны ли следующие утверждения? Если вы согласны с утверждением, напишите «да», если не согласны – «нет». Внесите свои ответы в таблицу (2 балла за каждый правильный ответ, максимальный балл - 10).

- 1. Берсерками у скандинавов называли тех людей, которые были способны крушить врага с огромной силой
- 2. Империя Карла Великого распалась в 843 году
- 3. Люди в Средние века знали, что живут в период Средневековья
- 4. Среди «семи свободных искусств», изучаемых в Средние века, первым стояло письмо
- 5. Культура Средневековья включала в себя и традиции варварских народов, и наследие античных времен

1	2	3	4	5
да	нет	нет	да	да

6

Задание № 3. Напишите понятия, к которым относятся данные определения (15 баллов, по 3 балла за каждый правильный ответ).

- 1. Земельное владение, которое давалось за военную службу и передавалось по наследству - феод
- 2. Единичный глава государства, передающий власть по наследству - монарх
- 3. Небольшие рисунки, которыми украшали рукописные книги - миниатюры
- 4. Тонко обработанная кожа овцы или телянка - парча
- 5. Запись событий по годам в Западной Европе - хроника

11

Задание № 4. Установите соответствие. К каждой позиции в первой колонке подберите соответствующую позицию из второй. Максимально – 12 баллов, по 3 балла за каждый правильный ответ.

Вспомогательная историческая наука		Что изучает	
1	Нумизматика	А	Наука о времени
2	Геральдика	Б	Наука о мерах длины, веса, объема
3	Метрология	В	Наука о монетах
4	Хронология	Г	Наука о гербах

1	2	3	4
В	Г	Б	А

12

Задание № 5. (7 баллов только за полный правильный ответ). Этих средневековых разбойников называли по-разному: варяги, норманны, викинги. Определите, кто из перечисленных народов как их называл. Свой ответ занесите в таблицу А) жители Европы Б) жители Скандинавии В) славяне.

варяги	норманны	викинги
<i>Б</i>	<i>А</i>	<i>Б</i>

А как называли этих средневековых разбойников англичане?

варвары.

7

Задание № 6. (8 баллов только за полный правильный ответ). В средневековом документе сказано, что Матвей Монморанси за феодал, полученный от Парижского епископа, должен отправляться в поход по требованию этого епископа с двумя рыцарями. Определите, в каких отношениях находились между собой названные люди.

Задание № 7. Всего – 10 баллов.

1. Назовите сооружение времён раннего Средневековья, о котором говорили: «Кажется, будто это «странное произведение, которое вместе с тем вызывает трепет. лежит не на камне, а спущено на золотой цепи с высоты небес»

Укажите имя человека, который в день освящения данного сооружения воскликнул, «Слава Всевышнему, который избрал меня для совершения этого великого дела! Я превзошел тебя, Соломон!»

2. О каком народе византийский историк VI в. писал: «Их никоим образом нельзя склонить к рабству или подчинению в собственной стране. Они многочисленны, выносливы, легко переносят жар, холод, дождь, недостаток в пище. К прибывающим к ним иноземцам относятся они ласково и охраняют их в случае надобности... Необходимые для них вещи они зарывают в тайниках, ничем лишним открыто не владеют...»?

Задание № 8. Работа с картой. (5 баллов за каждый правильный ответ. Всего 15 баллов)

1. Какое событие отражено на карте?

2. Когда произошло это событие

3. Какие государства в будущем образовались на каждой из земель?



Задание № 9. Как называется монумент? Где он расположен? Кому он посвящен? (13 баллов)

- Леонову*
- В городе Жамшиноград, Жамшиноградская обл.*
- Леонову*

10




Таблица результатов:

Задание №	1	2	3	4	5	6	7	8	9
Макс балл	10	10	15	12	7	8	10	15	13
Баллы ученика	<i>6</i>	<i>6</i>	<i>11</i>	<i>12</i>	<i>7</i>	<i>0</i>	<i>0</i>	<i>0</i>	<i>10</i>

Всего баллов: *51* Председатель жюри: *УМ* Цвях Н.Э.

Члены жюри *Графкина М.В.*

Иванова М.Е.

Степаненко О.Э.