

**Школьный этап всероссийской олимпиады школьников по технологии  
2019 - 2020 учебный год 7 класс  
«Культура дома и декоративно-прикладное искусство»  
Теоретическая часть**

**Время выполнения работы – 45 минут**

**Задания в тестовой форме**

*Максимальное количество баллов – 25 (по одному баллу за каждый вопрос + 6 баллов за творческое задание). Задание считается выполненным, если в нём не допущено ни одной ошибки. Наличие лишнего ответа также считается ошибкой.*

**I. Отметьте один правильный ответ. (Задание в закрытой форме)**

**1. Конструирование – это...**

- а) выполнение экономических расчетов      б) выполнение технологических карт  
 в) создание образа изделия на бумаге       г) построение основы изделия

**2. Контур одежды – это...**

- а) нюанс       б) силуэт      в) форма      г) пропорции      д) нет правильного ответа

**3. Прибавка к меркам на свободное облегание не зависит...**

- а) от фигуры человека       б) от характера покроя      в) от вида ткани  
 г) нет правильного ответа

**4. Чтобы правильно разморозить мясо, его помещают в ...**

- а) в горячую воду       б) в холодную воду       в) оставляют на воздухе

**5. Масштаб конструирования швейные изделия...**

- а) 1:2       б) 1:4      в) 1:5      г) 1:3

**6. Бордюры на обоях зрительно...**

- а) увеличивает высоту потолка      б) уменьшает высоту потолка      в) фиксирует высоту потолка

**7. Окраска потолка значительно светлее окраски стен, то это...**

- а) зрительно увеличивает высоту потолка       б) зрительно уменьшает высоту потолка  
 в) зрительно фиксирует высоту потолка

**8. Дайте разъяснение термину « пассерование»...**

- а) быстрое ошпаривание      б) варка в небольшом количестве жидкости  
 в) легкое обжаривание       г) прогрев продукта в небольшом количестве жира с последующей тепловой обработкой

**9. В наибольшей степени электризуются ткани...**

- а) хлопчатобумажные      б) шелковые      в) искусственные       г) синтетические

**II. Отметьте два или более правильных ответов. (Задание в закрытой форме)**

**10. К гигиеническим свойствам тканей относятся:**

- а) прочность       б) гигроскопичность      в) драпируемость  
 г) воздухопроницаемость       д) пылеемкость      е) скольжение

**11. Выберите признаки доброкачественности рыбы...**

- а) глаза мутные       б) глаза прозрачные;       в) жабры светло - розовые  
 г) консистенция упругая      д) брюшко вздутое

**12. В бытовых швейных машинах имеются регуляторы:**

- а) длины стежка      б) ширины стежка       в) натяжение верхней нити  
 г) натяжение нижней нити

**13. Причиной пропуска стежков может быть:**

- а) неправильная установка иглы       б) сильное натяжение нижней нити

- в) несоответствие номера иглы номеру нити      (Г) погнутая или затупленная игла  
 (Д) сильное натяжение верхней нити

14. Из каких продуктов получают крахмал:

- а) риса      б) яблок      в) капусты      (Г) картофеля      д) пшеницы

15. Выберите из перечисленных продукты, которые являются основными поставщиками животных белков:

- а) морепродукты      б) сыр      в) крупы      (К) орехи      (Д) молоко

16. Уменьшить потребление электроэнергии позволяют...




- а) применение люминесцентных ламп      б) двухтарифный счетчик электроэнергии  
 (В) местное освещение в интерьере      (Г) автоматические выключатели освещения

17. Укажите цифрами в левом столбце правильную последовательность технологии обработки плечевого изделия:

7	А. Примерка изделия
6	Б. Обработка основных деталей, их соединение в узлы
3	В. Начальная обработка основных деталей
4	Г. Обработка нижнего среза
5	Д. Временная сборка изделия
1	Е. ВТО изделия
2	Ж. Уточнение деталей после примерки

Ответ: \_\_\_\_\_

18. Зарисуйте символы по уходу за текстильными изделиями в левую часть таблицы.

	Гладить при температуре до 100 С
	Влажное изделие необходимо раскладывать на плоской поверхности
	Стирка запрещена

19. Найдите соответствие швейных терминов и их расшифровки, укажите ответ стрелками.

Сметать	Закрепить припуски шва в разные стороны с помощью эл. утюга.
Разутюжить	Закрепить подогнутый край детали машинной строчкой.
Застрочить	Соединить две примерно равные детали ручными сметочными стежками.

IV. Творческое задание

20. Придумайте несколько идей головного убора сказочной Снегурочки. Зарисуйте эскизы и дайте им пояснения.

*Утюго: 26.8.*

Председатель жюри \_\_\_\_\_ Федулова Е.С.

Члены жюри *Степаненко* Степаненко О.Э.

*Малик* Малик С.В.